

Фамилия ГООБ Имя \_\_\_\_\_ Отчество \_\_\_\_\_

Класс 9 Д/р 25.07.2008

При выполнении заданий Вам предстоит выполнить определённую работу, которую лучше организовать следующим образом:

- внимательно прочитайте задание;
- если Вы отвечаете на теоретический вопрос или решаете ситуационную задачу, обдумайте и сформулируйте конкретный ответ (ответ должен быть кратким, и его содержание следует вписать в отведённое поле; пишите чётко и разборчиво);
- при ответе на тестовые задания определите верный ответ и обведите кружком букву (буквы), соответствующую(-ие) выбранному Вами ответу.

За каждый правильный ответ Вы можете получить определённое членами жюри количество баллов, не выше указанной максимальной оценки.

Сумма набранных баллов за все решённые вопросы в двух форматах - итог Вашей работы. Максимальное количество баллов - 100. Задания считаются выполненными, если Вы вовремя сдали их членам жюри.

**Определите один правильный ответ.**

За правильный ответ начисляется 2 балла. 0 баллов выставляется за неправильный ответ, а также если участником отмечено более одного ответа (в том числе правильный).

1. **Велосипедист**

- 25
- а) всегда является водителем транспортного средства;
  - б) не является водителем транспортного средства;
  - в) не является водителем транспортного средства в возрасте до 14 лет;
  - г) является водителем транспортного средства только в возрасте старше 18 лет.

2. **Какой узел является схватывающим?**

- 
- а) стремя; б) прусик; в) проводник; г) штык.

3. **О чём предупреждает изображённый знак?**

- 
- а) о том, что движение скоростных поездов запрещено;
  - б) о движении скоростных поездов;
  - в) о том, что движение скоростных поездов осуществляется через равные интервалы времени;
  - г) о том, что движение скоростных поездов временно остановлено.



4. **Запускать небесные, или китайские, фонарики на территории всех поселений и городских округов**

- 
- а) разрешено; б) запрещено; в) запрещено только в ветреную погоду;
  - г) разрешено только в дождливую погоду.

5. **Находясь на эскалаторе в метро, запрещается**

- 25
- а) стоять справа лицом по направлению его движения;
  - б) бежать по эскалатору;
  - в) держать детей на руках; г) проходить с левой стороны.

6. **Для улучшения защитных свойств ватно-марлевой повязки от хлора её рекомендуется смочить в**

- 
- а) 7-9%-ном растворе яблочного уксуса;
  - б) 2%-ном растворе уксусной кислоты;
  - в) 5%-ном растворе лимонной кислоты;
  - г) 2-5%-ном растворе пищевой соды.

7. **Обнаружен подозрительный автомобиль. Установите минимальный радиус зоны эвакуации.**

- 
- а) 1240 м; б) 580 м; в) 920 м;  г) 460 м.

8. **Какой витамин образуется в организме человека при воздействии на кожу солнечных лучей?**

- 20
- а) А; б) К; в) Е;  г) D.

9. **С какого мероприятия начинается оказание первой помощи пострадавшему?**

- 25
- а) определение состояния пострадавшего;
  - б) выполнение обзорного осмотра пострадавшего;
  - в) выполнение подробного осмотра пострадавшего;
  - г) оценка обстановки и создание безопасных условий для оказания первой помощи.

10. **Какая повязка является основой при наложении других видов повязок?**

- 25
- а) спиральная;  б) круговая (циркулярная); в) восьмиобразная (крестообразная);
  - г) колосовидная.

**Определите два правильных ответа.**

За каждый правильный ответ начисляется 2 балла. 0 баллов выставляется за неправильный ответ, а также если участником отмечены более двух ответов (в том числе правильные).

1. **Пешеходам в населённых пунктах рекомендуется иметь при себе предметы со световозвращающими элементами в тёмное время суток при движении по**  
 а) обочине;  б) разделительной полосе проезжей части; в) велопешеходной дорожке;  
 г) велосипедной дорожке;  д) краю проезжей части.

2. **Какие костры рекомендуется использовать для приготовления пищи при автономном пребывании на природе?**  
 а) «шалаш»; б) «нодья»; в) «полинезийский»;  г) «пирамида»; д) «пушка».

3. **Выберите знаки, которые в совокупности означают «Медицинский кабинет направо вниз».**



4. **Определите герб и эмблему, которые относятся к подразделениям МЧС России.**



5. **По каким критериям можно предположить, что лёд может быть тонким?**

- а) лёд прозрачный, с зеленоватым оттенком;  
 б) лёд молочно-мутный;  
 в) лёд на открытом бесснежном пространстве;  
 г) лёд в местах, где растёт камыш;  
 д) лёд с синеватым оттенком.

6. **Определите сигналы оповещения гражданской обороны.**

- а) «Слушайте все!»;  б) «Внимание всем!»; в) «Угроза катастрофического затопления»; г) «Угроза цунами»;  д) «Бактериологическая опасность».

7. **Определите признаки возможного вербовщика в террористические организации.**

- а) дружелюбный человек, старающийся занять пустующую нишу в жизни человека;  
 б) старается представить социум и ближайшее окружение слишком доброжелательным;  
 в) старается помочь преодолеть комплексы и страхи;  
 г) не может дать ответы на сложные вопросы;  
 д) ведёт частые беседы о боге.

8. **Какие продукты питания содержат наибольшее количество белка?**

- а) соя; б) гречневая крупа; в) яблоко;  г) мясо птицы; д) мороженое пломбир.

9. **В каких случаях для временной остановки наружного кровотечения рекомендуется использовать давящую повязку?**

- а) венозное кровотечение в области предплечья;  
 б) смешанное кровотечение в верхней трети бедра;  
 в) артериальное кровотечение в средней трети плеча;  
 г) артериальное кровотечение на ладонной поверхности кисти;  
 д) артериальное кровотечение в верхней трети бедра.

10. **Какие действия ЗАПРЕЩЕНЫ при оказании первой помощи в случае термического ожога без нарушения целостности кожи?**

- а) охлаждение повреждённого участка холодной водой;  
 б) смазывание повреждённого участка жирным кремом, маслом;  
 в) наложение стерильной повязки;  
 г) вскрытие пузырей;  
 д) охлаждение повреждённого участка пакетами со снегом, льдом.

**Теоретические задания**

**Задание 1**

Расположите предложенные фрагменты в верной последовательности, чтобы в итоге получилось определение.

- 1) к проезжей части на одном уровне с ней,  
 2) элемент дороги, примыкающий непосредственно


- 3) разметки 1.2, используемый для движения, остановки
- 4) отличающийся типом покрытия или выделенный с помощью
- 5) и стоянки в соответствии с Правилами дорожного движения

Ответ: 1 1 4 3 5 6 5

Запишите термин, определение которому Вы составили.

Ответ: \_\_\_\_\_

Выберите изображение разметки, с помощью которой выделяется указанный элемент.



Ответ: \_\_\_\_\_

Оценка задания. Максимальная оценка за правильно выполненное задание – 10 баллов, при этом:

- за правильно составленное определение выставляется 6 баллов;
- за правильно указанный термин вставляется 2 балла;
- за правильно выбранное изображение выставляется 2 балла;
- при отсутствии правильных ответов баллы не начисляются.

### Задание 2

АХОВ различаются по воздействию на организм человека. Распределите по группам АХОВ: *хлор, трёххлористый фосфор, фосген, хлорпикрин, оксид углерода, синильная кислота, сернистый ангидрид, сероводород, метилмеркаптан, оксид этилена.*

Ответ:

Группы АХОВ	АХОВ
Вещества с преимущественно удушающим действием, с выраженным прижигающим действием	<u>хлор, трёххлористый фосфор</u>
Вещества с преимущественно удушающим действием, со слабым прижигающим действием	<u>фосген, хлорпикрин</u>
Вещества общедовитого действия	<u>оксид углерода, синильная кислота</u>
Вещества, обладающие удушающим и общедовитым действием	<u>сернистый ангидрид, сероводород</u>
Нейротропные яды	<u>метилмеркаптан, оксид этилена</u>

Оценка задания. Максимальная оценка за правильно выполненное задание – 10 баллов, при этом:

- за каждое правильно распределённое АХОВ по группам выставляется 1 балл;
- при отсутствии правильных ответов баллы не начисляются.

### Задание 3

Чтобы отдых на море был безопасным, существуют международные символы предупреждения на морских пляжах. Международные символы предупреждения на морских пляжах представляют собой флаги, установленные на берегу.

Определите значение флагов: «Опасность! Купаться запрещено»; «Территория для сёрфинга»; «Повышенная опасность! Заходить в воду запрещено»; «Море спокойно. Безопасные условия для купания»; «Соблюдайте осторожность! Желательно купаться не в одиночку».

Ответ:









**Оценка задания.** Максимальная оценка за правильно выполненное задание – **10 баллов**, при этом:

- за каждое правильно определённое значение флага выставляется **2 балла**;
- при отсутствии правильных ответов баллы не начисляются.

**Задание 4**

1. Установите соответствие между видом травмы и (или) состоянием пострадавшего и изображением оптимального положения тела.

Ответ:

Вид травмы и (или) состояние пострадавшего	Изображение оптимального положения тела пострадавшего
Травма груди, пострадавший в сознании	
Большая кровопотеря, пострадавший в сознании	
Отсутствие сознания у пострадавшего	
Травма живота, пострадавший в сознании	

20  
20

2. Целью придания пострадавшему оптимального положения тела является

- а) обеспечение удобства для проводимых манипуляций;
- б) предупреждение риска самопроизвольного перемещения тела пострадавшего;
- в) предупреждение воздействия угрожающих факторов на пострадавшего;
- г) уменьшение боли, создание наилучших условий для функционирования органов и систем пострадавшего.

**Оценка задания.** Максимальная оценка за правильно выполненное задание – **10 баллов**, при этом:

- за каждое правильно установленное соответствие в части 1 начисляется **2 балла**;
- за правильный ответ в части 2 начисляется **2 балла**;
- при отсутствии правильных ответов баллы не начисляются.

Общее количество баллов за все этапы - \_\_\_\_\_

Фамилия Рогов Имя Игорь Отчество Игорьевич

Класс 10 Др 28.05.2007

**Уважаемый участник!**

При выполнении заданий Вам предстоит выполнить определённую работу, которую лучше организовать следующим образом:

- внимательно прочитайте задание;
- если Вы отвечаете на теоретический вопрос или решаете ситуационную задачу, обдумайте и сформулируйте конкретный ответ (ответ должен быть кратким, и его содержание следует вписать в отведённое поле; пишите чётко и разборчиво);
- при ответе на тестовые задания определите верный ответ и обведите кружком букву (буквы), соответствующую(-ие) выбранному Вами ответу.

За каждый правильный ответ Вы можете получить определённое членами жюри количество баллов, не выше указанной максимальной оценки.

Сумма набранных баллов за все решённые вопросы - итог Вашей работы. Максимальное количество баллов - 100.

Задания считаются выполненными, если Вы вовремя сдали их членам жюри.

**Теоретическая часть**

Выберите правильный ответ.

**1. Приметами хоженной тропы могут быть:**

- а) высокая трава, наличие следов птиц и зверей;
- +  б) примятая трава, следы от транспорта, следы деятельности человека;
- в) растущие на тропе грибы, ягоды, сломанные ветки.

**2. Как вы будете переправляться, если лед ненадежен, а обойти его нет возможности:**

- + а) с шестом, держа его горизонтально на уровне груди;  б) ползком;
- в) обычным шагом, простукивая лед впереди палкой.

**3. При заблаговременном оповещении о наводнении необходимо:**

- +  а) открыть окна и двери нижних этажей;
- б) включить телевизор, радио, выслушать сообщения и рекомендации;
- в) перенести на нижние этажи ценные вещи.

**4. Неконтролируемое горение растительности, стихийно распространяющееся по лесной территории, - это:**

- + а) стихийный пожар; б) природный пожар;  в) лесной пожар.

**5. РСЧС создана с целью:**

- а) прогнозирования ЧС на территории Российской Федерации и организации проведения аварийно-спасательных и других неотложных работ;
- б) объединения усилий органов власти, организаций и предприятий, их сил и средств в области предупреждения и ликвидации чрезвычайных ситуаций;
- в) обеспечение первоочередного жизнеобеспечения населения, пострадавшего в чрезвычайных ситуациях на территории Российской Федерации.

**6. Если кровотечение сопровождается излиянием крови во внутренние органы, полости и ткани, то оно называется:**

- а) полостным;  б) внутренним;  в) закрытым.

**7. Какова последовательность оказания первой помощи при коллапсе:**

- а) пострадавшего уложить на живот, подложив подушку, нижнюю часть туловища и ноги несколько опустить, дать понюхать (вдохнуть) нашатырного спирта, согреть ноги;
- б) пострадавшего уложить на спину, подложив подушку, нижнюю часть туловища и ноги пострадавшего приподнять как можно выше, дать понюхать (вдохнуть) нашатырного спирта, приложить лед к ногам;
- в) пострадавшего уложить на спину, нижнюю часть туловища и ноги пострадавшего несколько приподнять, дать понюхать (вдохнуть) нашатырного спирта, согреть ноги.

**8. Как высушить резиновые сапоги в походе:**

- + а) набить сухой травой или бумагой и поставить их недалеко от костра;
- б) вбить в землю около костра колышки и повесить на них сапоги;
- +  в) вытащить из сапог стельки и протереть внутри досуха тряпкой, поставить сапоги к теплу, но не к открытому огню.

9. В солнечный полдень тень указывает направление на:

- а) юг; б) север; в) запад; г) восток.

10. При внезапном наводнении до прибытия помощи следует:

- а) оставаться на месте и ждать указаний по телевидению (радио), при этом вывесить белое или цветное полотнище, чтобы вас обнаружили;  
б) быстро занять ближайшее возвышенное место и оставаться там до схода воды, при этом подавать сигналы, позволяющие вас обнаружить;  
в) спуститься на нижний этаж и подавать световые сигналы.

11. Аммиак – это:

- а) бесцветный газ с резким запахом, тяжелее воздуха;  
б) газ с удушливым неприятным запахом, напоминающим запах гнилых плодов;  
в) бесцветный газ с резким удушливым запахом, легче воздуха.

12. Вы играли с друзьями на улице. Вдруг на заводах и предприятиях загудели гудки. В жилом районе включили сирену. Ваши действия:

- а) немедленно пойти домой и уточнить у родителей или соседей, что произошло в микрорайоне, городе, стране;  
б) пойти домой, включить радио или телевизор на местной программе, выслушать информацию и выполнить содержащиеся в ней указания;  
в) продолжить игру, не обращая внимания на происходящее вокруг вас.

13. Для приведения в действие огнетушителя ОУ необходимо:

- а) сорвать пломбу и выдернуть чеку, направить раструб на пламя и нажать на рычаг;  
б) прочистить раструб, нажать на рычаг и направить на пламя;  
в) нажать на рычаг, взяться за раструб рукой, направить на пламя и придерживать до прекращения горения.

14. По каким местным приметам можно определить стороны света:

- а) стволам и коре деревьев, лишайнику и мху, склонам холмов и бугров, муравейникам, таянию снега;  
б) кустарнику и сухой траве, направлению течения ручьев и рек, наезженной колее;  
в) полыньям на водоемах, скорости ветра, направлению комлей валяющихся на дороге спиленных деревьев.

15. Чтобы правильно преодолеть реку, следует:

- а) преодолевать реку вплавь, использовать надувные матрацы и камеры;  
б) выбрать место, где вода выглядит спокойной, и переходить реку вброд, используя надувные камеры;  
в) выбрать удобное место и переходить реку вброд, используя шест или альпеншток.

16. Вы попали под завал в результате землетрясения, нога была придавлена упавшей конструкцией, но освобождена: шевелить пальцами и ступней ноги можете. В помещении есть немного свободного пространства, но выход заблокирован. Какова очередность ваших действий:

- а) окажете себе первую помощь, установите подпорки под конструкции над вами, найдете теплые вещи или одеяло, чтобы укрыться, будете кричать, стучать металлическими предметами по трубам, плитам;  
б) окажете себе первую помощь и начнете разгребать завал в сторону выхода из помещения;  
в) установите подпорки под конструкции над вами, попытаетесь подойти к оконному проему, если найдете спички, попытаетесь развести небольшой костер, чтобы согреться и осмотреться вокруг.

17. Взрыв всегда сопровождается:

- а) большим количеством выделяемой энергии;  
б) резким повышением температуры;  
в) незначительным дробящим действием.

18. Если сигнал об угрозе нападения противника застал вас дома, необходимо:

- а) оставаться дома, плотно закрыв окна и двери;  
б) быстро покинуть здание и спуститься в ближайшее убежище;  
в) покинуть здание и отойти от него на безопасное расстояние.

19. Какой устав используется на кораблях Военно-Морского Флота (ВМФ) России?

- а) морской устав;  
б) устав Российского флота Петра I;  
в) такой же как и в сухопутных войсках;



г) на кораблях внутренняя служба и обязанности должностных лиц дополнительно определяются корабельным уставом (ВМФ).

**20. Допустимая толщина льда при передвижении по нему людей должна быть:**

а) не менее 10 см; б) не менее 5 см; в) не менее 15 см.

**21. Укажите самый простой способ обеззараживания воды в полевых условиях из предложенных ниже:**

а) кипячение воды;

б) очистка через фильтр из песка, ваты и материи;

в) очистка через фильтр из песка и материи;

**22. К поражающим факторам взрыва относятся:**

а) осколочные поля и ударная волна;

б) высокая температура и волна прорыва;

в) сильная загазованность местности.

**23. Боевые традиции – это:**

а) исторически сложившиеся в армии и на флоте и передающиеся из поколения в поколение правила, обычаи и нормы поведения военнослужащих, связанные с образцовым выполнением боевых задач и несением воинской службы;

б) определенные правила и требования к несению службы и выполнению боевых задач;

в) специальные нормы, предъявленные к психологическим и нравственным качествам военнослужащего в период прохождения им воинской службы.

**24. Из приведенных волевых качеств определите те, которые необходимы для выполнения воинского долга.**

а) решительность, выдержка, настойчивость в преодолении препятствий и трудностей, которые возникают в процессе военной службы и мешают ей;

б) агрессивность, настороженность, терпимость к себе и сослуживцам;

в) терпимость по отношению к старшим по званию, лояльность по отношению к сослуживцам, непримиримость к неуставным взаимоотношениям.

**25. Преданность своему Отечеству, любовь к Родине, стремление служить ее интересам и защищать ее от врагов – это:**

а) патриотизм; б) героизм; в) воинский долг.

**26. Когда гражданин приносит военную присягу в современных условиях?**

а) когда предложат командиры;

б) когда захочет;

в) после прохождения начальной военной подготовки, но не позднее двух месяцев со дня прибытия в воинскую часть

**27. Совершение выдающихся по своему значению действий и требующих от человека (воина) личного мужества, стойкости, готовности к самопожертвованию – это:**

а) героизм; б) мужество; в) воинская честь.

**28. На какой срок заключается контракт для поступающих впервые на службу на должности солдат, сержантов и им равных?**

а) на один год;

б) на два года;

в) на три года;

г) на пять лет.

**29. При закрытом переломе бедра необходимо:**

а) попытаться определить подвижность ноги, согнув ее в коленном суставе, придать пострадавшему возвышенное положение;

б) дать обезболивающее средство, положить две шины: длинную, от подмышечной впадины до наружной лодыжки, и короткую, от промежности до внутренней лодыжки;

в) дать обезболивающее средство, положить шину из подручного материала от подмышечной впадины до коленного сустава.

**30. Что Вы можете сказать о военнослужащих, имеющих такие погоны.**

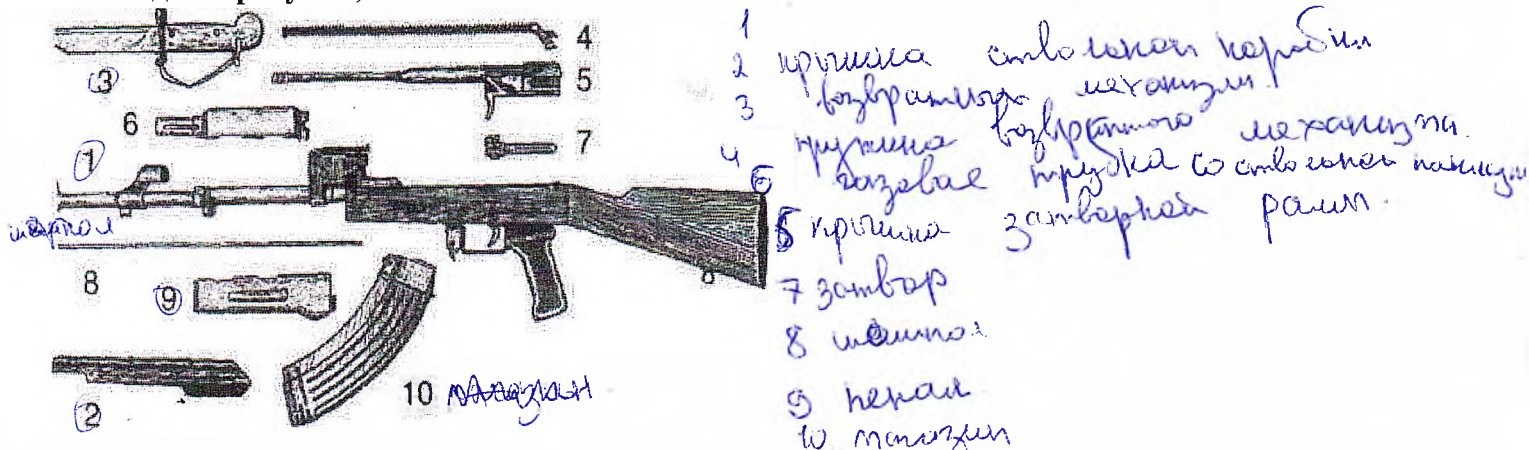
**Определить воинское звание**



Практическая часть

Задание 1.

1.1. Глядя на рисунок, напишите названия основных частей автомата.



1.2. Распределите операции в порядке их выполнения при сборке автомата после неполной разборки (ответ представьте последовательностью букв, например: в, а,...):

- а) Присоединяют шомпол; 9
- б) Присоединяют затворную раму с затвором к ствольной коробке; 3
- в) Присоединяют крышку ствольной коробки; 5
- г) Присоединяют магазин к автомату; 10
- д) Присоединяют затвор к затворной раме; 2
- е) Присоединяют возвратный механизм; 4
- ж) Присоединяют газовую трубку со ствольной накладкой; 1
- з) Вкладывают пенал в гнездо приклада; 8
- и) Спускают курок с боевого взвода. 6
- к) Ставят курок на предохранитель 7

ж б в и к з а г


**Задание 2. Вопросы по правилам дорожного движения (максимальное количество баллов -10б.)**

1. Где разрешается кататься на санках и лыжах?




- 1. По дороге, предназначенной для пешеходов.
- 2. По правой стороне проезжей части.
- 3. В специально отведенных местах для массового отдыха, где нет опасности выезда на проезжую часть.

2. Разрешается ли в этой обстановке водителю левого автомобиля продолжать движение через пешеходный переход?



- 1. Разрешается.
- 2. Запрещается.

3. Основными элементами дороги в городе являются:



- 1. Обочина, кювет, тротуар.
- 2. Пешеходный переход, дорожное ограждение, обочина.
- 3. Проезжая часть, тротуар, разделительная полоса, трамвайные пути, обочина.

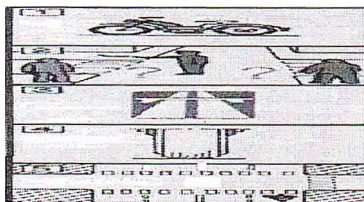
4. Где разрешается водить группы детей в населенном пункте?





1. Только по тротуару или пешеходной дорожке.
2. По краю проезжей части вдоль тротуара.

5. Разрешается ли эксплуатация мопеда, если рисунок протектора его шин полностью стерт?



1. Разрешается только в сухую погоду.
2. Разрешается.
3. Не разрешается.

6. Как должны двигаться лица, ведущие мотоцикл, мопед или велосипед, за пределами населенного пункта?

1. По краю проезжей части навстречу движению транспортных средств.
2. По краю проезжей части по ходу движения транспортных средств.
3. По тротуару.

4. По тротуару или велосипедной дорожке

7. Какие знаки предупреждают о приближении к железнодорожному переезду со шлагбаумом?



А Б В Г Д

1. Все знаки.
2. А и Б.
3. А и Д.
4. А и Г.
5. В и Г.
6. Г.

8. Если по вине пешехода, произошло ДТП в результате которого были повреждены автомобиль или придорожные постройки, нарушитель наказывается следующим образом:

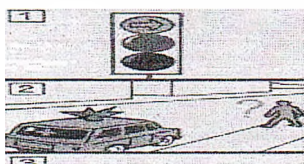
1. Инспектор ГИБДД предупредит его.
2. Нарушителя оштрафуют.
3. Нарушителя оштрафуют и он должен будет возместить ущерб от ДТП.

9. Имеет ли право водитель мопеда проезжать за этот знак?



1. Имеет право.
2. Не имеет права.

10. Что сказано в ПРАВИЛАХ о переходе дороги, если приближается автомобиль с проблесковым маячком или специальным сигналом?



1. Воздерживаться от выхода на проезжую часть.
2. Можно переходить дорогу, не мешая этому.

**Задание 3. Ситуационная задача. (максимальное количество баллов -106.)**

На автобусной остановке стоящий рядом мужчина побледнел и упал. Он - без сознания, кожные покровы бледные, с сероватым оттенком; зрачки широкие, на свет не реагируют.

**Выберите правильные ответы и расположите их в порядке очередности выполнения:**

- + 1. Вызвать скорую помощь.
- + 2. Убедиться в отсутствии пульса на сонной артерии и реакции зрачков на свет.
- 3. Позвать окружающих на помощь.
- 4. Определить признаки дыхания с помощью ворсинок ваты или зеркала.
- 5. Нанести прекардиальный удар и приступить к сердечно-легочной реанимации.
- + 6. Попытаться добиться от мужчины, на что он все-таки жалуется.
- + 7. Подробно расспросить окружающих, что предшествовало потере сознания.
- 8. Повернуть пострадавшего на живот.
- 9. Приложить к голове холод (целлофановый пакет со снегом или холодной водой).
- + 10. Поднести к носу ватку с нашатырным спиртом. 6 2 1 7 10

**Задание 4. Вопросы по правилам пожарной безопасности (максимальное кол-во баллов -106.)**

**1. В каком из перечисленных примеров могут создаться условия для возникновения процесса горения:**

- а) бензин + кислород воздуха
- б) ткань, смоченная в азотной кислоте + тлеющая сигарета
- в) гранит + кислород воздуха + пламя горелки
- г) дерево + кислород воздуха + факел
- д) ацетон + кислород воздуха + искра от зажигалки

**2. Как вы поступите если на вас загорелась одежда:**

- а) побежите, постараетесь сорвать одежду
- б) остановитесь, упадете, покатитесь, сбивая пламя
- в) завернетесь в одеяло и обмотаетесь плотной тканью

**3. Вы идете вечером и замечаете, что из подвала вашего дома валит дым и из дверей выбегают дети.**

**Ваши действия:**

- а) подойдете и спросите, что там горит
- б) войдете внутрь и посмотрите, что горит
- в) пойдете домой и позвоните в пожарную охрану

**4. Для приведения в действие огнетушителя ОУ необходимо:**

- + а) направить раструб на пламя
- + б) сорвать пломбу и выдернуть чеку 8 а 2
- в) прочистить раструб
- + г) нажать на рычаг
- д) взяться за раструб рукой и придерживать его

Выберите правильные ответы и расположите их по очередности действий.

**5. Как вы думаете, большее или меньшее поражение, чем огонь, вызывает кипящая жидкость, попавшая на тело:**

- а) меньшее
- б) большее
- в) не приходилось сталкиваться с этим.

**6. Сжигание мусора на территории предприятия или во дворе :**

- а) запрещается;
- б) разрешается, если расстояние от места сжигания до зданий и сооружений более 150 м;
- в) разрешается в присутствии сотрудника противопожарной службы;
- г) разрешается, если место сжигания обнесено барьерным ограждением.

**БЛАНК ОТВЕТОВ**

Фамилия 10003 Имя \_\_\_\_\_ Отчество \_\_\_\_\_  
Класс 10 Д/р \_\_\_\_\_

**Теоретическая часть**

вопрос	Варианты ответов				вопрос	Варианты ответов				вопрос	Варианты ответов			
1	а	<b>б</b>	в	г	11	а	б	<b>в</b>	г	21	а	<b>б</b>	в	г
2	а	<b>б</b>	в	г	12	<b>а</b>	б	в	г	22	<b>а</b>	б	в	г
3	а	<b>б</b>	в	г	13	<b>а</b>	б	в	г	23	<b>а</b>	б	в	г
4	а	б	<b>в</b>	г	14	<b>а</b>	б	в	г	24	<b>а</b>	б	в	г
5	<b>а</b>	б	в	г	15	а	<b>б</b>	в	г	25	<b>а</b>	б	в	г
6	а	<b>б</b>	в	г	16	<b>а</b>	б	в	г	26	а	б	<b>в</b>	г
7	<b>а</b>	б	в	г	17	а	<b>б</b>	в	г	27	<b>а</b>	б	в	г
8	а	б	<b>в</b>	г	18	<b>а</b>	б	в	г	28	<b>а</b>	б	в	г
9	а	<b>б</b>	в	г	19	а	б	<b>в</b>	г	29	а	<b>б</b>	в	г
10	а	<b>б</b>	в	г	20	<b>а</b>	б	в	г	30	<u>капитан</u>			

Количество правильных ответов \_\_\_\_\_ баллов \_\_\_\_\_

250

**Практическая часть**

Названия основных частей автомата:

- |                                    |   |
|------------------------------------|---|
| 1. <u>крышка ствольной коробки</u> | 6. <u>курок с пружиной со ствольной казны</u> |
| 2. <u>выбрасыватель патрона</u>    | 7. <u>защелка</u>                             |
| 3. <u>узел затвора</u>             | 8. <u>ударник</u>                             |
| 4. <u>узел предохранителя</u>      | 9. <u>печенье</u>                             |
| 5. <u>узел затвора</u>             | 10. <u>молоток</u>                            |

Количество правильных ответов \_\_\_\_\_ баллов \_\_\_\_\_

2. Порядок выполнения операций при сборке автомата после неполной разборки:

1+	2+	3+	4+	5+	6+	7+	8-	9-	10+
н	а	с	е	б	и	к	з	а	2

Количество правильных ответов \_\_\_\_\_ баллов \_\_\_\_\_

Задание 2. Ответы по правилам дорожного движения

1+	2+	3+	4+	5+	6-	7-	8+	9-	10+
3	2	3	1	3	4	2	3	2	1

Количество правильных ответов \_\_\_\_\_ баллов \_\_\_\_\_

Задание 3. Ответы на ситуационную задачу

1	2	3	4	5	6	7	8	9	10
3	2				1	4			5

Количество правильных ответов \_\_\_\_\_ баллов \_\_\_\_\_

Задание 4. Ответы по правилам пожарной безопасности

1-	2+	3-	4+	5+	6-
5	5	а	б а з	5	2

Количество правильных ответов \_\_\_\_\_ баллов \_\_\_\_\_

Общее количество баллов за все этапы - \_\_\_\_\_

250 + 170

420



Фамилия Гороб \_\_\_\_\_ Имя \_\_\_\_\_ Отчество \_\_\_\_\_  
Класс д/р \_\_\_\_\_

**Уважаемый участник!**

При выполнении заданий Вам предстоит выполнить определённую работу, которую лучше организовать следующим образом:

- внимательно прочитайте задание;
- если Вы отвечаете на теоретический вопрос или решаете ситуационную задачу, обдумайте и сформулируйте конкретный ответ (ответ должен быть кратким, и его содержание следует вписать в отведённое поле; пишите чётко и разборчиво);
- при ответе на тестовые задания определите верный ответ и обведите кружком букву (буквы), соответствующую(-ие) выбранному Вами ответу.

За каждый правильный ответ Вы можете получить определённое членами жюри количество баллов, не выше указанной максимальной оценки.

Сумма набранных баллов за все решённые вопросы - итог Вашей работы. Максимальное количество баллов - 100.

Задания считаются выполненными, если Вы вовремя сдали их членам жюри.

**Теоретическая часть**

Выберите правильный ответ.

**1. Приметами хоженной тропы могут быть:**

- а) высокая трава, наличие следов птиц и зверей;
- б) примятая трава, следы от транспорта, следы деятельности человека;
- в) растущие на тропе грибы, ягоды, сломанные ветки.

**2. Как вы будете переправляться, если лед ненадежен, а обойти его нет возможности:**

- а) с шестом, держа его горизонтально на уровне груди; б) ползком;
- в) обычным шагом, простукивая лед впереди палкой.

**3. При заблаговременном оповещении о наводнении необходимо:**

- а) открыть окна и двери нижних этажей;
- б) включить телевизор, радио, выслушать сообщения и рекомендации;
- в) перенести на нижние этажи ценные вещи.

**4. Неконтролируемое горение растительности, стихийно распространяющееся по лесной территории, - это:**

- а) стихийный пожар; б) природный пожар; в) лесной пожар.

**5. РСЧС создана с целью:**

- а) прогнозирования ЧС на территории Российской Федерации и организации проведения аварийно-спасательных и других неотложных работ;
- б) объединения усилий органов власти, организаций и предприятий, их сил и средств в области предупреждения и ликвидации чрезвычайных ситуаций;
- в) обеспечение первоочередного жизнеобеспечения населения, пострадавшего в чрезвычайных ситуациях на территории Российской Федерации.

**6. Если кровотечение сопровождается излиянием крови во внутренние органы, полости и ткани, то оно называется:**

- а) полостным; б) внутренним; в) закрытым.

**7. Какова последовательность оказания первой помощи при коллапсе:**

- а) пострадавшего уложить на живот, подложив подушку, нижнюю часть туловища и ноги несколько опустить, дать понюхать (вдохнуть) нашатырного спирта, согреть ноги;
- б) пострадавшего уложить на спину, подложив подушку, нижнюю часть туловища и ноги пострадавшего приподнять как можно выше, дать понюхать (вдохнуть) нашатырного спирта, приложить лед к ногам;
- в) пострадавшего уложить на спину, нижнюю часть туловища и ноги пострадавшего несколько приподнять, дать понюхать (вдохнуть) нашатырного спирта, согреть ноги.

**8. Как высушить резиновые сапоги в походе:**

- а) набить сухой травой или бумагой и поставить их недалеко от костра;
- б) вбить в землю около костра колышки и повесить на них сапоги;
- в) вытащить из сапог стельки и протереть внутри досуха тряпкой, поставить сапоги к теплу, но не к открытому огню.

**9. В солнечный полдень тень указывает направление на:**

а) юг; б) север; в) запад; г) восток.

**10. При внезапном наводнении до прибытия помощи следует:**

а) оставаться на месте и ждать указаний по телевидению (радио), при этом вывесить белое или цветное полотнище, чтобы вас обнаружили;

б) быстро занять ближайшее возвышенное место и оставаться там до схода воды, при этом подавать сигналы, позволяющие вас обнаружить;

в) спуститься на нижний этаж и подавать световые сигналы.

**11. Аммиак – это:**

а) бесцветный газ с резким запахом, тяжелее воздуха;

б) газ с удушливым неприятным запахом, напоминающим запах гнилых плодов;

в) бесцветный газ с резким удушливым запахом, легче воздуха.

**12. Вы играли с друзьями на улице. Вдруг на заводах и предприятиях загудели гудки. В жилом районе включили сирену. Ваши действия:**

а) немедленно пойти домой и уточнить у родителей или соседей, что произошло в микрорайоне, городе, стране;

б) пойти домой, включить радио или телевизор на местной программе, выслушать информацию и выполнить содержащиеся в ней указания;

в) продолжить игру, не обращая внимания на происходящее вокруг вас.

**13. Для приведения в действие огнетушителя ОУ необходимо:**

а) сорвать пломбу и выдернуть чеку, направить раструб на пламя и нажать на рычаг;

б) прочистить раструб, нажать на рычаг и направить на пламя;

в) нажать на рычаг, взяться за раструб рукой, направить на пламя и придерживать до прекращения горения.

**14. По каким местным приметам можно определить стороны света:**

а) стволам и коре деревьев, лишайнику и мху, склонам холмов и бугров, муравейникам, таянию снега;

б) кустарнику и сухой траве, направлению течения ручьев и рек, наезженной колее;

в) полянкам на водоемах, скорости ветра, направлению комлей валяющихся на дороге спиленных деревьев.

**15. Чтобы правильно преодолеть реку, следует:**

а) преодолевать реку вплавь, использовать надувные матрацы и камеры;

б) выбрать место, где вода выглядит спокойной, и переходить реку вброд, используя надувные камеры;

в) выбрать удобное место и переходить реку вброд, используя шест или альпеншток.

**16. Вы попали под завал в результате землетрясения, нога была придавлена упавшей конструкцией, но освобождена: шевелить пальцами и ступней ноги можете. В помещении есть немного свободного пространства, но выход заблокирован. Какова очередность ваших действий:**

а) окажете себе первую помощь, установите подпорки под конструкции над вами, найдете теплые вещи или одеяло, чтобы укрыться, будете кричать, стучать металлическими предметами по трубам, плитам;

б) окажете себе первую помощь и начнете разгребать завал в сторону выхода из помещения;

в) установите подпорки под конструкции над вами, попытаетесь подойти к оконному проему, если найдете спички, попытаетесь развести небольшой костер, чтобы согреться и осмотреться вокруг.

**17. Взрыв всегда сопровождается:**

а) большим количеством выделяемой энергии;

б) резким повышением температуры;

в) незначительным дробящим действием.

**18. Если сигнал об угрозе нападения противника застал вас дома, необходимо:**

а) оставаться дома, плотно закрыв окна и двери;

б) быстро покинуть здание и спуститься в ближайшее убежище;

в) покинуть здание и отойти от него на безопасное расстояние.

**19. Какой устав используется на кораблях Военно-Морского Флота (ВМФ) России?**

а) морской устав;

б) устав Российского флота Петра I;

в) такой же как и в сухопутных войсках;

г) на кораблях внутренняя служба и обязанности должностных лиц дополнительно определяются корабельным уставом (ВМФ).

**20. Допустимая толщина льда при передвижении по нему людей должна быть:**

а) не менее 10 см; б) не менее 5 см; в) не менее 15 см.

**21. Укажите самый простой способ обеззараживания воды в полевых условиях из предложенных ниже:**

а) кипячение воды;

б) очистка через фильтр из песка, ваты и материи;

в) очистка через фильтр из песка и материи;

**22. К поражающим факторам взрыва относятся:**

а) осколочные поля и ударная волна;

б) высокая температура и волна прорыва;

в) сильная загазованность местности.

**23. Боевые традиции – это:**

а) исторически сложившиеся в армии и на флоте и передающиеся из поколения в поколение правила, обычаи и нормы поведения военнослужащих, связанные с образцовым выполнением боевых задач и несением воинской службы;

б) определенные правила и требования к несению службы и выполнению боевых задач;

в) специальные нормы, предъявленные к психологическим и нравственным качествам военнослужащего в период прохождения им воинской службы.

**24. Из приведенных волевых качеств определите те, которые необходимы для выполнения воинского долга.**

а) решительность, выдержка, настойчивость в преодолении препятствий и трудностей, которые возникают в процессе военной службы и мешают ей;

б) агрессивность, настороженность, терпимость к себе и сослуживцам;

в) терпимость по отношению к старшим по званию, лояльность по отношению к сослуживцам, непримиримость к неуставным взаимоотношениям.

**25. Преданность своему Отечеству, любовь к Родине, стремление служить ее интересам и защищать ее от врагов – это:**

а) патриотизм; б) героизм; в) воинский долг.

**26. Когда гражданин приносит военную присягу в современных условиях?**

а) когда предложат командиры;

б) когда захочет;

в) после прохождения начальной военной подготовки, но не позднее двух месяцев со дня прибытия в воинскую часть

**27. Совершение выдающихся по своему значению действий и требующих от человека (воина) личного мужества, стойкости, готовности к самопожертвованию – это:**

а) героизм; б) мужество; в) воинская честь.

**28. На какой срок заключается контракт для поступающих впервые на службу на должности солдат, сержантов и им равных?**

а) на один год;

б) на два года;

в) на три года;

г) на пять лет.

**29. При закрытом переломе бедра необходимо:**

а) попытаться определить подвижность ноги, согнув ее в коленном суставе, придать пострадавшему возвышенное положение;

б) дать обезболивающее средство, положить две шины: длинную, от подмышечной впадины до наружной лодыжки, и короткую, от промежности до внутренней лодыжки;

в) дать обезболивающее средство, положить шину из подручного материала от подмышечной впадины до коленного сустава.

**30. Что Вы можете сказать о военнослужащих, имеющих такие погоны.  
Определить воинское звание**

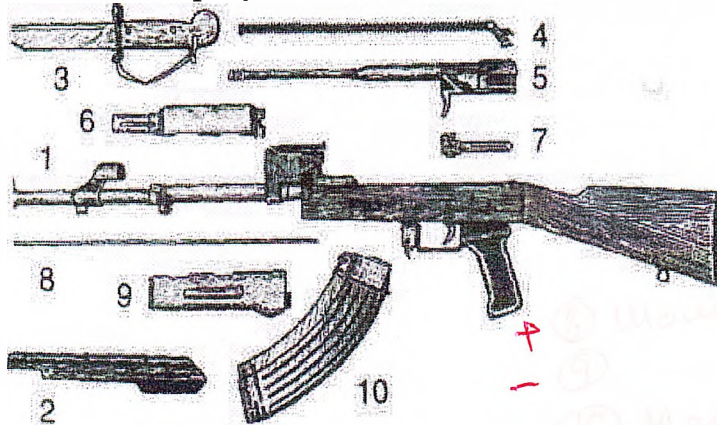




### Практическая часть

#### Задание 1.

1.1. Глядя на рисунок, напишите названия основных частей автомата.



1.2. Распределите операции в порядке их выполнения при сборке автомата после неполной разборки (ответ представьте последовательностью букв, например: в, а,..):

- а) Присоединяют шомпол;
- б) Присоединяют затворную раму с затвором к ствольной коробке;
- в) Присоединяют крышку ствольной коробки;
- г) Присоединяют магазин к автомату;
- д) Присоединяют затвор к затворной раме;
- е) Присоединяют возвратный механизм;
- ж) Присоединяют газовую трубку со ствольной накладкой;
- з) Вкладывают пенал в гнездо приклада;
- и) Спускают курок с боевого взвода.
- к) Ставят курок на предохранитель.


**Задание 2. Вопросы по правилам дорожного движения (максимальное количество баллов -10б.)**

1. Где разрешается кататься на санках и лыжах?




1. По дороге, предназначенной для пешеходов.
2. По правой стороне проезжей части.
3. В специально отведенных местах для массового отдыха, где нет опасности выезда на проезжую часть.

2. Разрешается ли в этой обстановке водителю левого автомобиля продолжать движение через пешеходный переход?



1. Разрешается.
2. Запрещается.

3. Основными элементами дороги в городе являются:



1. Обочина, кювет, тротуар.
2. Пешеходный переход, дорожное ограждение, обочина.
3. Проезжая часть, тротуар, разделительная полоса, трамвайные пути, обочина.

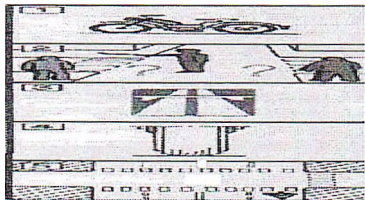
4. Где разрешается водить группы детей в населенном пункте?



1. Только по тротуару или пешеходной дорожке.
2. По краю проезжей части вдоль тротуара.

+

5. Разрешается ли эксплуатация мопеда, если рисунок протектора его шин полностью стерт?



1. Разрешается только в сухую погоду.
2. Разрешается.
3. Не разрешается.

+

6. Как должны двигаться лица, ведущие мотоцикл, мопед или велосипед, за пределами населенного пункта?

1. По краю проезжей части навстречу движению транспортных средств.
2. По краю проезжей части по ходу движения транспортных средств.
3. По тротуару.
4. По тротуару или велосипедной дорожке

+

7. Какие знаки предупреждают о приближении к железнодорожному переезду со шлагбаумом?



А Б В Г Д

1. Все знаки.
2. А и Б.
3. А и Д.
4. А и Г
5. В и Г.
6. Г.

+

8. Если по вине пешехода, произошло ДТП в результате которого были повреждены автомобиль или придорожные постройки, нарушитель наказывается следующим образом:

1. Инспектор ГИБДД предупредит его.
2. Нарушителя оштрафуют.
3. Нарушителя оштрафуют и он должен будет возместить ущерб от ДТП.

—

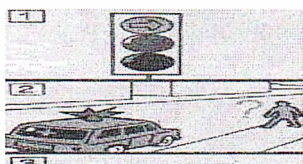
9. Имеет ли право водитель мопеда проезжать за этот знак?



1. Имеет право.
2. Не имеет права.

—

10. Что сказано в ПРАВИЛАХ о переходе дороги, если приближается автомобиль с проблесковым маячком или специальным сигналом?



1. Воздерживаться от выхода на проезжую часть.
2. Можно переходить дорогу, не мешая этому

+

**Задание 3. Ситуационная задача. (максимальное количество баллов -10б.)**

На автобусной остановке стоящий рядом мужчина побледнел и упал. Он - без сознания, кожные покровы бледные, с сероватым оттенком; зрачки широкие, на свет не реагируют.

**Выберите правильные ответы и расположите их в порядке очередности выполнения:**

- 4 1. Вызвать скорую помощь.
- 4 2. Убедиться в отсутствии пульса на сонной артерии и реакции зрачков на свет.
3. Позвать окружающих на помощь.
4. Определить признаки дыхания с помощью ворсинок ваты или зеркала.
5. Нанести прекардиальный удар и приступить к сердечно-легочной реанимации.
6. Попытаться добиться от мужчины, на что он все-таки жалуется.
7. Подробно расспросить окружающих, что предшествовало потере сознания.
8. Повернуть пострадавшего на живот.
9. Приложить к голове холод (целлофановый пакет со снегом или холодной водой).
10. Поднести к носу ватку с нашатырным спиртом.

**Задание 4. Вопросы по правилам пожарной безопасности (максимальное кол-во баллов -10б.)**

**1. В каком из перечисленных примеров могут создаться условия для возникновения процесса горения:**

- а) бензин + кислород воздуха
- б) ткань, смоченная в азотной кислоте + тлеющая сигарета
- в) гранит + кислород воздуха + пламя горелки
- г) дерево + кислород воздуха + факел
- д) ацетон + кислород воздуха + искра от зажигалки

**2. Как вы поступите если на вас загорелась одежда:**

- а) побежите, постараетесь сорвать одежду
- 4 б) остановитесь, упадете, покатитесь, сбивая пламя
- в) завернетесь в одеяло и обмотаетесь плотной тканью

**3. Вы идете вечером и замечаете, что из подвала вашего дома валит дым и из дверей выбегают дети.**

**Ваши действия:**

- а) подойдете и спросите, что там горит
- б) войдете внутрь и посмотрите, что горит
- 4 в) пойдете домой и позвоните в пожарную охрану

**4. Для приведения в действие огнетушителя ОУ необходимо:**

- а) направить раструб на пламя
- б) сорвать пломбу и выдернуть чеку
- в) прочистить раструб
- г) нажать на рычаг
- д) взяться за раструб рукой и придерживать его

Выберите правильные ответы и расположите их по очередности действий.

**5. Как вы думаете, большее или меньшее поражение, чем огонь, вызывает кипящая жидкость, попавшая на тело:**

- а) меньшее
- 4 б) большее
- в) не приходилось сталкиваться с этим.

**6. Сжигание мусора на территории предприятия или во дворе :**

- а) запрещается;
- 4 б) разрешается, если расстояние от места сжигания до зданий и сооружений более 150 м;
- в) разрешается в присутствии сотрудника противопожарной службы;
- г) разрешается, если место сжигания обнесено барьерным ограждением.